

- Reference ID:(17426) खाली दिलेल्या चार पत्त्यांपैकी कोणता पत्ता खाली दिलेल्या पत्त्याशी अचूकपणे जुळत नाही?
The Boulevard Road near Nehru Park Dal Lake Srinagar 190001, Gagribal, Srinagar, Jammu and Kashmir 190001
094190 90888
- (i) The Boulevard Road near Nehru Park Dal Lake Srinagar 190001, Gagribal, Srinagar, Jammu and Kashmir 190001
094190 90888
- (ii) The Boulevard Road near Nehru Park Dal Lake Srinagar 190001, Gagribal, Srinagar, Jammu and Kashmir 190001
094190 90888
- (iii) The Boulevard Road near Nehru Park Dal Lake Srinagar 190001, Gagribal, Srinagar, Jammu and Kashmir 190001
094190 90888
- (iv) The Boulevard Road near Nehru Park Dal Lake Srinagar 190001, Gagribal, Srinagar, Jammu and Kashmir 190001
094190 90888

A.i

B.ii

C.iii

D.iv

Answer: D.iv

- Reference ID:(17428) आनंद आणि बाबु यांच्या वर्तमान वयामधील गुणोत्तर अनुक्रमे 5:3 आहे. 4 वर्षांपूर्वी आनंदचे वय आणि 4 वर्षांनंतर बाबुच्या वयामधील गुणोत्तर 1:1 आहे. 4 वर्षांनंतर आनंदचे वय आणि 4 वर्षांपूर्वी बाबुच्या वयामधील गुणोत्तर काय असेल?

A.1 : 3

B.2 : 1

C.3 : 1

D.4 : 1

Answer: C.3 : 1

Reference ID:(17433) रिकाम्या जागी योग्य संख्या निवडून श्रृंखला पूर्ण करा:
6, 8, 14, 26, 46, _____

A.84

B.96

C.112

D.118

Answer: D.118

Reference ID:(17166) Choose the appropriate prepositional phrase for the given sentence:
_____ the rains, we went out for the picnic.

A.On behalf of

B.In spite of

C.Respite of

D.In case of

Answer: B.In spite of

Reference ID:(17190) पुढील नामाला अयोग्य विशेषणाचा पर्याय निवडा.
कापड

A.कडू

B.जरतारी

C.मऊ

D.विणलेले

Answer: A.कडू

Reference ID:(17165) Choose the appropriate prepositions for the given sentence:

Many families are satisfied _____ the results they get _____ homeschooling.

A.with ... from

B.from ... in

C.against ... out

D.of ... of

Answer: A.with ... from

Reference ID:(17182) पुढील वाक्य वाचून योग्य वाक्य ओळखा.

A.तिची वही हरवले.

B.तिची वही हरवलो.

C.तिची वही हरवली.

D.तिची वही हरवल्या.

Answer: C.तिची वही हरवली.

Reference ID:(17162) Choose the most suitable determiner for the given sentence:

_____ of the two pay any attention during class. They are always day dreaming.

A.Either

B.Each

C.Neither

D.Both

Answer: C.Neither

Reference ID:(17189) पुढील वाक्यातील अधोरेखित अव्ययाचा प्रकार ओळखा.
'तुला मुक्ती मिळू शकेल असे सांप्रत काही लाभेल, असे वाटत नाही.

A.उभयान्वयी अवय

B.शब्दयोगी अव्यय

C.केयलप्रयोगी अव्यय

D.क्रियाविशेषण अव्यय

Answer: D.क्रियाविशेषण अव्यय

Reference ID:(17437)

अरुण त्याच्या सायकलवर प्रवास करत आहे आणि त्याने जर 10 किमी/तास या वेगाने प्रवास केला तर तो A या ठिकाणी दुपारी 2 वाजता पोहचेल अशी त्याने गणना केली. त्याने 15 किमी तासाने प्रवास केला तर तो तेथे दुपारी 12 वाजता पोहचेल. दुपारी 1 वाजता त्या ठिकाणी पोहचण्यासाठी त्याने किती वेगाने प्रवास करावा.

A.8 किमी/तास

B.10 किमी/तास

C.12 किमी/तास

D.14 किमी/तास

Answer:

C.12 किमी/तास

Reference ID:(17415)

जानेवारी'19 मध्ये 9 वी आंतरराष्ट्रीय सुक्ष्म सिंजन कॉन्फरन्स महाराष्ट्रातील कोणत्या शहरात आयोजित केली गेली होती?

A.औरंगाबाद

B.नांदेड

C.सोलापूर

D.सांगली

Answer:

A.औरंगाबाद

Reference ID:(17422)

वैद्यकीय तापमापी हे मोजण्यासाठी वापरतात:

A.वातावरणीय तापमान

B.मानवी शरीराचे तापमान

C.रुग्णालयाचे तापमान

D.प्रयोगशाळेचे तापमान

Answer:

B.मानवी शरीराचे तापमान

Reference ID:(17425)

सरासरी काढा.
78, 89, 65, 82, 98 & 98

A.85

B.56

C.58

D.98

Answer: A.85

Reference ID:(17186) दिलेल्या धातूचे शक्य क्रियापद ओळखा.
खेळणे

A.खेळतो

B.खेळते

C.खेळवते

D.खेळतात

Answer: C.खेळवते

Reference ID:(17157) Choose the option with the appropriate suffix to complete the given sentence:

If he helps others, he always expects them to be recipro_____.

A.-city

B.- cal

C.-ment

D.-en

Answer: B.- cal

Reference ID:(17174) दिलेल्या शब्दगटातून योग्य समानार्थी शब्द निवडा.
कासव

A.मच्छ

B.कच्छप

C.वराह

D.सुपर्ण

Answer: B.कच्छप

Reference ID:(17151)

Choose the sentence with the correct punctuation to convey the right meaning.

A.What a beautiful morning said the boy!

B.“What a beautiful morning!” said the boy.

C.What! A beautiful morning said the boy.

D.“What a beautiful morning said the boy?”

Answer:

B.“What a beautiful morning!” said the boy.

Reference ID:(17154)

Choose the correct form of adjective for the given sentence:

Knowing no better, he used very _____ language.

A.spontaneous

B.accurate

C.inappropriate

D.correct

Answer:

C.inappropriate

Reference ID:(17171)

Out of the following options, identify a simple sentence.

A.Gulliver opened his eyes gently.

B.Only to find himself surrounded by strange people.

C.Try as much, he was unable to raise himself.

D.There were birds in the sky and ants below him.

Answer:

A.Gulliver opened his eyes gently.

Reference ID:(17172)

Choose the correct form of tense for the given sentence:

Yesterday I _____ to the market, although it _____.

A.go, rained

B.goes, is raining

C.went, was raining

D.went, is raining

Answer:

C.went, was raining

Reference ID:(17411)

कोणत्या राज्याला भारत शासनाच्या वैयक्तिक आणि प्रशिक्षण विभागाचा इ-लर्निंग प्रशिक्षक प्रोग्रामर म्हणून पहिली श्रेणी मिळाली?

A.तेलंगणा

B.महाराष्ट्र

C.पश्चिम बंगाल

D.राजस्थान

Answer:

A.तेलंगणा

Reference ID:(17406)

भारतीय परमाणु ऊर्जा महामंडळ मर्यादित (एनपीसीआयएल) आणि एलेक्ट्रीसीटी डी फ्रान्सद्वारे परमाणु ऊर्जा प्रकल्पासाठी महाराष्ट्रामध्ये भूसंपादन पूर्ण झाले आहे?

A.पावस

B.जयगड

C.झरेवाडी

D.जयतापूर

Answer:

D.जयतापूर

Reference ID:(17441)

आज सोमवार आहे. 61 दिवसांनी कोणता दिवस असेल?

A.शनिवार

B.रविवार

C.सोमवार

D.मंगळवार

Answer:

A.शनिवार

Reference ID:(17193)

पुढील वाक्यातील अव्यय ओळखा.
तुझ्या वागण्याची तुला थोडीसुद्धा लाज वाटत नाही?

A.सुद्धा

B.लाज

C.थोडी

D.नाही

Answer: A.सुद्धा

Reference ID:(17177) रिकाम्या जागी योग्य जोडशब्द लिहा.
सुभद्राने कष्टाने _____ जमवून संसार थाटला.

A.गाडगीभांडी

B.भांडीमडकी

C.गाडगीमडकी

D.ताटभांडी

Answer: C.गाडगीमडकी

Reference ID:(17438) 50 संख्यांची सरासरी 38 आहे. जर 45 आणि 55 या दोन संख्या काढून टाकल्या, तर उर्वरित संख्यांची सरासरी काय असेल?

A.37.5

B.35

C.36.75

D.38

Answer: A.37.5

Reference ID:(17187) योग्य पर्यायाची निवड करा.
दुकानदार साड्या _____

A.विकतात

B.विकते

C.विकून

D.विकणे

Answer: A.विकतात

Reference ID:(17176) दिलेल्या शब्दगटातून विरुद्धार्थी शब्द ओळखा.
प्रपंच – गबाळा X _____

A.ओढगस्तीचा

B.नीटनेटका

C.सुखाचा

D.रव्यापव्याचा

Answer:

B.नीटनेटका

Reference ID:(17432)

रिकाय्या जागी योग्य संख्या निवडून श्रृंखला पूर्ण करा:
5, 6, 16, ____, 244, 1245

A.28

B.55

C.57

D.61

Answer:

C.57

Reference ID:(17410)

खालीलपैकी कोणत्या राज्याच्या विधानसभेच्या निवडणूका या सार्वत्रिक निवडणूका 2019 सोबतच आयोजित केल्या जाणार नाहीत?

A.आंध्र प्रदेश

B.ओडिशा

C.बिहार

D.सिक्कीम

Answer:

C.बिहार

Reference ID:(17200)

खालीलपैकी कोणत्या महिन्याच्या पहिल्या आठवड्यामध्ये दरवर्षी वन्य जीव सप्ताह पाळला जातो?

A.ऑक्टोबर

B.सप्टेंबर

C.जानेवारी

D.नोव्हेंबर

Answer:

A.ऑक्टोबर

Reference ID:(17161)

Choose the correct form of verb for the given sentence:

I cannot _____ my car out because the engine _____ work.

A.takes ... don't

B.take ... doesn't

C.taking ... isn't

D.took ... can't

Answer:

B.take ... doesn't

Reference ID:(17159)

Choose the appropriate articles for the given sentence:

In 1929, Fleming wrote __ report of his laboratory experiments, presented it at __ medical meeting, and had it printed in __ medical journals.

A.No article required ... the ... a

B.the ... the ... the

C.the ... a ...no article required

D.a ... a ... no article required

Answer:

D.a ... a ... no article required

Reference ID:(17421)

जर अंतर-वेळ आलेख हा वक्राकार असेल तर ती वस्तू _____.

A.एका समान वेगाने चालते

B.असमान वेगाने चालते

C.वर्तुळाकार रस्त्यावर चालते

D.त्याच्या मूळ ठिकाणी येते

Answer:

B.असमान वेगाने चालते

Reference ID:(17152)

Choose the option that has NOT been punctuated correctly.

A.I always have a hard time getting up in the morning.

B.We took: a tent, a cooler, and a sleeping bag.

C.The fog was as thick as potato soup.

D.Sara bought three new pairs of shoes, even though she had put herself on a tight budget just last week.

Answer: B.We took: a tent, a cooler, and a sleeping bag.

Reference ID:(17188) रिकाम्या जागी योग्य पर्याय निवडा.
'व्यतिरिक्त' हे _____ अव्यय आहे.

A.केवलप्रयोगी अव्यय

B.उभयान्वयी अव्यय

C.शब्दयोगी अव्यय

D.क्रियाविशेषण अव्यय

Answer: C.शब्दयोगी अव्यय

Reference ID:(17191) पुढील वाक्यात किती विशेषणे आहेत, ते ओळखा.
एवढ्या चहासाठी केवढा मोठा थर्मास आणलात तुम्ही ?

A.१

B.२

C.३

D.४

Answer: C.३

Reference ID:(17434) ग्रंथालयामध्ये 60% पुस्तके हिंदीची आहेत, उर्वरित पुस्तकांमधून 60% पुस्तके इंग्रजीची आणि बाकी पुस्तके मल्याळमची आहेत. जर इंग्रजीची 4800 पुस्तके असतील, तर मल्याळममधील पुस्तकांची एकूण संख्या ही आहे?

A.3400

B.3500

C.3100

D.3200

Answer: D.3200

Reference ID:(17402) मुंबई फुटबॉल एरेनामध्ये आयोजित भारतीय सुपर लीग (आयएसएल) च्या अंतिम फेरीमध्ये 1-0 ने पराभूत झालेल्या संघाचे नाव सांगा.

A.मुंबई फुटबॉल एरेना

B.एफसी गोवा

C.बेंगलुरु फुटबॉल क्लब (एफसी)

D.केरळ ब्लास्टर्स (केबी)

Answer:

B.एफसी गोवा

Reference ID:(17169)

Choose the most appropriate usage to fill in the blank in the given sentence:

Teachers give their students tests and assessments _____.

A.periodically

B.periodic

C.period-wise

D.period

Answer:

A.periodically

Reference ID:(17424)

7136985 या संख्येमधील अंकांची चढत्या क्रमाने पुनर्मांडणी केल्यानंतर त्यामधील किती अंकांचे स्थान बदलणार नाही?

A.एक

B.दोन

C.तीन

D.चार

Answer:

B.दोन

Reference ID:(17440)

खाली दिलेल्या श्रृंखलेमध्ये अंकांचा एक विशिष्ट क्रम दिलेला आहे. त्यानुसार चुकीचा क्रम ओळखा:

1527, 1185, 985, 865, 823, 817

A.985

B.865

C.823

D.817

Answer:

A.985

Reference ID:(17412) संविधानाच्या खालीलपैकी कोणत्या अनुच्छेदांतर्गत, दोन किंवा अधिक राज्यांसाठी एकच व्यक्ती राज्यपाल म्हणून नियुक्त करणे शक्य आहे?

A.अनुच्छेद 153

B.अनुच्छेद 158

C.अनुच्छेद 156

D.अनुच्छेद 163

Answer: A.अनुच्छेद 153

Reference ID:(17419) ग्रेटर मुंबई महानगरपालिका (एमसीजीएम) ची अध्यक्षा म्हणून सेवा देण्यासाठी खालीलपैकी कोण पहिली महिला नगरसेविका बनली आहे?

A.अजॉय मेहता

B.तृष्णा विश्वासराव

C.संजय बर्वे

D.विश्वनाथ महाडेश्वर

Answer: B.तृष्णा विश्वासराव

Reference ID:(16950) Choose the option that has the correct spelling for the missing word in the given sentence:

The mouse ate the _____ which was kept on the table.

A.chise

B.chese

C.cheese

D.cheeze

Answer: C.cheese

Reference ID:(17181) पुढील वाक्याचा प्रकार ओळखा.
मी नाटकात काम करणार आहे.

A.विध्यर्थी

B.होकारार्थी

C.नकारार्थी

D.आज्ञार्थी

Answer:

B.होकारार्थी

Reference ID:(17199)

मार्च 2019 मध्ये खालीलपैकी कोणत्या माजी आरबीआय गव्हर्नरला यशवंतराव चव्हाण राष्ट्रीय पुरस्कार प्रदान करण्यात आला?

A.मनमोहन सिंग

B.रघुराम राजन

C.बिमल जलान

D.उर्जित पटेल

Answer:

B.रघुराम राजन

Reference ID:(17184)

दिलेल्या काळात परिवर्तन करण्यासाठी योग्य पर्याय निवडा.
आजी श्रियाला गोष्ट सांगत आहे. (भविष्यकाळ)

A.सांगत असेल

B.सांगेल

C.सांगितली

D.सांगितली होती

Answer:

B.सांगेल

Reference ID:(17409)

_____ वर्षामध्ये ब्रिटीशांनी निझाम आणि मराठांसोबत टिपू सुल्तानविरुद्ध त्रिपक्षीय गठबंधन पूर्ण केले.

A.1801

B.1904

C.1789

D.1679

Answer:

C.1789

Reference ID:(17431)

The series given below contains a sequence of numbers. Identify the incorrect combination: / खाली दिलेल्या श्रृंखलेमध्ये अंकांचा एक विशिष्ट क्रम दिलेला आहे. त्यानुसार चुकीचा क्रम ओळखा:

1, 3, 6, 11, 20, 39, 70

A.3

B.39

C.11

D.20

Answer:

B.39

Reference ID:(17164)

Choose the correct form of modal auxiliary verb for the given sentence:

_____ we do the working up for you?

A.Shall

B.May

C.Might

D.Will

Answer:

A.Shall

Reference ID:(16949)

Choose the option that has the correct spelling.

A.Foreward

B.Forword

C.Forworde

D.Foreword

Answer:

D.Foreword

Reference ID:(17155)

Fill in the blank with the correct noun for the given sentence:

Drugs not only alter _____ but also memory, mood and _____.

A.pathways ... boredom

B.vision ... perception

C.perception ... behaviour

D.thinking ... childhood

Answer: C.perception ... behaviour

Reference ID:(17436) एक व्यक्ती 10 तासांमध्ये प्रवास पूर्ण करतो. तो पहिला अर्धा प्रवास 21 किमी/तास या दराने करतो आणि दुसरा अर्धा प्रवास 24 किमी/तास या दराने करतो. किलोमीटरमध्ये केलेला एकूण प्रवास काढा.

A.121 किमी

B.242 किमी

C.224 किमी

D.112 किमी

Answer: C.224 किमी

Reference ID:(17445) एका व्यक्तीच्या खात्यामध्ये दोन वर्षांपूर्वी 2000 रुपये होते. पहिल्या वर्षी त्याने त्याच्या खात्यामध्ये 20% रक्कम जमा केली. पुढच्या वर्षी त्याने वाढलेल्या रकमेच्या 10% रक्कम जमा केली. 2 वर्षांनंतर व्यक्तीच्या खात्यामधील एकूण रक्कम काढा.

A.2650

B.2640

C.2740

D.2840

Answer: B.2640

Reference ID:(17429) वडीलांचे वय हे त्यांचा मुलगा रोहितच्या वयाच्या तीन पट जास्त आहे. 8 वर्षांनंतर, त्यांचे वय रोहितच्या वयाच्या अडीच पट असेल. 8 वर्षांनंतर, वडीलांचे वय रोहितच्या वयाच्या किती पट असेल?

A.2 पट

B.3 पट

C.4 पट

D.5 पट

Answer: A.2 पट

Reference ID:(17178) जोडशब्द नसलेला शब्द निवडा.

A.बेलभांडार

B.बोलघेवडा

C.बाडबिस्तरा

D.बाजारहाट

Answer: B.बोलघेवडा

Reference ID:(17435) 60 विद्यार्थ्यांच्या वर्गामध्ये, 40% विद्यार्थी तार्किकीमध्ये उत्तीर्ण झाले, 5% विद्यार्थी बुद्धिमत्ता चाचणी आणि तार्किकीमध्ये नापास झाले आणि 20% विद्यार्थी दोन्ही विषयांत उत्तीर्ण झाले. फक्त बुद्धिमत्ता चाचणीमध्ये उत्तीर्ण झालेल्या विद्यार्थ्यांची संख्या काढा?

A.17

B.33

C.23

D.37

Answer: B.33

Reference ID:(17156) Choose the appropriate collective noun to complete the sentence:

Scientists have recently discovered that a _____ of asteroids is fast approaching the earth's surface.

A.galaxy

B.constellation

C.belt

D.group

Answer: C.belt

Reference ID:(17153)

Choose the correct form of adjective for the given sentence:

He must have done his duty, because he is a/an _____ man.

A. upright

B. conscientious

C. conscious

D. truthful

Answer:

B. conscientious

Reference ID:(17408)

पंत प्रधानांनी 24 फेब्रुवारी 2019 रोजी गोरखपूरमधून (पीएम-किसान) प्रकल्प सुरू केला, "पीएम-किसान"-चे पूर्ण स्वरूप काय आहे?

A. प्रधान मंत्री किसान सन्मान निधी

B. प्रधान मंत्री किसान सिंचन सन्मान दर्शन

C. प्रधान मंत्री कृषी सिंचन सन्मान

D. प्रधान मंत्री किसान संधर्ष निर्माण

Answer:

A. प्रधान मंत्री किसान सन्मान निधी

Reference ID:(17198)

पुढील वाक्यात पर्यायातील अचूक वाक्प्रचार निवडा.
तो प्रसंग माझ्या कायमचा लक्षात आहे.

A. उरी फुटून मरणे

B. मनात घर करणे

C. गुंग होणे

D. मोहोर उमटवणे

Answer:

B. मनात घर करणे

Reference ID:(17430)

31 ऑक्टोबर 1984 रोजी कोणता दिवस होता?

A. बुधवार

B. गुरुवार

C. शुक्रवार

D. शनिवार

Answer:

A.बुधवार

Reference ID:(17414)

खालीलपैकी कोणत्या पहिल्या भारतीय कुस्तीपटूने ऑलिंपिकमध्ये रजत पदक जिंकले होते?

A.योगेश्वर दत्त

B.साक्षी मलिक

C.गीता फोगट

D.सुशिल कुमार

Answer:

D.सुशिल कुमार

Reference ID:(17439)

4 पुरूष आणि 6 महिला एक काम 8 दिवसांमध्ये पूर्ण करतात, तर 3 पुरूष आणि 7 महिला ते काम 10 दिवसांत पूर्ण करू शकतात. 10 महिला ते काम किती दिवसांत पूर्ण करतील?

A.35 दिवस

B.40 दिवस

C.45 दिवस

D.50 दिवस

Answer:

B.40 दिवस

Reference ID:(17170)

Choose the correct form of verb that is in agreement with the subject:

It was either Kendra or Zoë who _____ volleyball to the picnic.

A.brought their

B.brought her

C.bought their

D.bought there

Answer:

B.brought her

Reference ID:(17413)

खालीलपैकी कोणता राष्ट्रीय जलमार्ग महाराष्ट्रातील रेवदंडा खाडी - कुंडलिक नदी यंत्रणेदरम्यान स्थित आहे?

A.एनडब्ल्यू-85

B.एनडब्ल्यू-32

C.एनडब्ल्यू-200

D.एनडब्ल्यू-202

Answer:

A.एनडब्ल्यू-85

Reference ID:(17197)

पुढील वाक्यचारांच्या योग्य अर्थाचा पर्याय निवडा.
हतबल होणे-

A.निराश होणे

B.असमर्थ ठरणे

C.अशक्तपणा येणे

D.याचना करणे

Answer:

B.असमर्थ ठरणे

Reference ID:(17407)

2019-20 वर्षासाठीचा महाराष्ट्राचा अंतरिम अर्थसंकल्प कोणत्या राज्य वित्त मंत्र्यांद्वारे सादर केला गेला होता?

A.जयकुमार रावल

B.पांडुरंग फुंडकर

C.सुधीर मुनगंटीवार

D.महादेव जानकर

Answer:

C.सुधीर मुनगंटीवार

Reference ID:(17180)

रिकामी जागा भरा.
गौण वाक्यांचे _____ प्रकार आहेत.

A.४

B.२

C.३

D.६

Answer:

C.३

Reference ID:(17168)

Choose the appropriate conjunctions for the given sentence:

He sprained his ankle _____ played on to win the match.

A.and

B.otherwise

C.but

D.because

Answer:

C.but

Reference ID:(17444)

एक रेल्वे 48 किमी/तासांच्या सरासरी वेगाने धावली, तर विशिष्ट अंतर 50 मिनिटांमध्ये कापते. प्रवासाचा वेळ 40 मिनिटे एवढा कमी करण्यासाठी रेल्वेने किती वेगाने धावायला हवे?

A.50 किमी/तास

B.60 किमी/तास

C.65 किमी/तास

D.70 किमी/तास

Answer:

B.60 किमी/तास

Reference ID:(17192)

अनेकवचनांचे एक वचन करा.
तुमची अशी घाणेरडी अक्षरे पाहून आम्हाला वाईट वाटते.

A.तुमचे असे घाणेरडे अक्षरे पाहून मला वाईट वाटते.

B.तुझे असे अक्षर पाहून मला वाईट वाटते.

C.तुझे अशी घाणेरडी अक्षरे पाहून आम्हाला वाईट वाटते.

D.तुझे अशी घाणेरडे अक्षर पाहून आम्हाला वाईट वाटते.

Answer:

B.तुझे असे अक्षर पाहून मला वाईट वाटते.

Reference ID:(17404)

वन्यजीव संवर्धनासाठी भारताची पहिली जननिक बँक येथे उघडली:

A.हैदराबाद

B.मुंबई

C.दिल्ली

D.चंदीगढ

Answer:

A.हैदराबाद

Reference ID:(17196)

पुढीलपैकी शुद्ध शब्द ओळखा.

A.बहीष्कार

B.बाहिष्कार

C.बहिष्कर

D.बहिष्कार

Answer:

D.बहिष्कार

Reference ID:(17158)

Choose the option with the appropriate suffix to complete the given sentence:

I am ready to sweet _____the dish to make it more tasty.

A.-er

B.-en

C.-est

D.-ly

Answer:

B.-en

Reference ID:(17185)

दिलेल्या धातूचे योग्य रूप निवडा.
रडणे (थांबणे), तुझे सर्व प्रश्न सुटतील. (आज्ञार्थ)

A.थांबवतो

B.थांबून

C.थांबव

D.थांबवतात

Answer:

C.थांबव

Reference ID:(17403)

भारतामध्ये, मानवी अधिकार दिवस हा दर वर्षी _____ रोजी पाळला जातो.

A.11 डिसेंबर

B.10 डिसेंबर

C.12 डिसेंबर

D.13 डिसेंबर

Answer:

B.10 डिसेंबर

Reference ID:(17417)

स्वच्छ सर्वेक्षण पुरस्कार 2019 मध्ये 'नव उपक्रम आणि उत्तम पध्दती' मधील उत्तम लष्करी छावणी पुरस्कार महाराष्ट्रामधील _____ ला मिळाला.

A.खडकी कॅन्टॉनमेंट बोर्ड

B.पुणे कॅन्टॉनमेंट बोर्ड

C.औरंगाबाद कॅन्टॉनमेंट बोर्ड

D.अहमदनगर कॅन्टॉनमेंट बोर्ड

Answer:

D.अहमदनगर कॅन्टॉनमेंट बोर्ड

Reference ID:(17183)

रिकाम्या जागी योग्य शब्द निवडा.
बोलणारा ज्याच्याविषयी बोलतो त्याला _____ असे म्हणतात.

A.उद्देश्य

B.विधेय

C.उद्देशपूरक

D.कर्म

Answer:

A.उद्देश्य

Reference ID:(25009)

A, B आणि C एक काम अनुक्रमे 24, 6 आणि 12 दिवसांमध्ये पूर्ण करू शकतात. एकत्र काम करून ते किती दिवसांत काम पूर्ण करू शकतात:

$\frac{1}{24}$ दिवस

$\frac{7}{24}$ दिवस

$3\frac{3}{7}$ दिवस

4 दिवस

Answer:

$3\frac{3}{7}$ दिवस

Reference ID:(17443)

A हा एक विशिष्ट काम 12 दिवसांत पूर्ण करू शकतो. B हा A पेक्षा 60% अधिक कार्यक्षम आहे. तेच काम करण्यासाठी B ला किती दिवस लागतील?

A.16/4

B.15/2

C.12

D.14/3

Answer:

B.15/2

Reference ID:(17175)

दिलेल्या शब्दगटातून विरुद्धार्थी शब्द ओळखा.
चित्त - खिन्न X _____

A.प्रसन्न

B.दुष्ट

C.भावूक

D.सहृदय

Answer:

A.प्रसन्न

Reference ID:(17194)

पुढील वाक्यातील विरामचिन्ह ओळखा.
किती छान आहात तुम्ही सगळे जण! तुमच्याशी मैत्री करायला खूप आवडेल मला.

A.लोपचिन्ह

B.अवतरण चिन्ह

C.उद्गारचिन्ह

D.संयोगचिन्ह

Answer: C.उद्गारचिन्ह

Reference ID:(17167) Choose the most suitable conjunction for the given sentence:

I have been waiting here for a long time, _____ my friend has not turned up.

A.and

B.though

C.moreover

D.but

Answer: D.but

Reference ID:(17446) 56 रुपये/किलोग्रॅम किंमत असलेला 8 किग्रॅ चहाला 69 रुपये/किग्रॅ असलेला 32 किग्रॅ चहा आणि 75 रुपये/किग्रॅ असलेल्या 25 किग्रॅ चहासोबत मिसळला गेला आणि मिश्रणाची 20% नफ्याने विक्री केली. मिश्रणाची विक्री किंमत काढा (रुपयांमध्ये)?

A.82.64

B.83.64

C.80

D.85

Answer: B.83.64

Reference ID:(17405) भारतीय संविधानाच्या सातव्या परिशिष्टाच्या समवर्ती सूचीशी खालीलपैकी कोणता घटक/विषय संबंधित आहे?

A.सार्वजनिक आरोग्य आणि स्वच्छता

B.वने

C.स्टॉक एक्सचेंजेस

D.कृषी

Answer: B.वने

Reference ID:(17427)

प्रश्न चिन्हाच्या जागी काय यायला हवे?

ANZBOYCPXD?W

A.Q

B.T

C.U

D.S

Answer:

A.Q

Reference ID:(17195)

पुढील शब्दाची विभक्ती ओळखा
दुकानात

A.प्रथमा

B.तृतीया

C.सप्तमी

D.द्वितीया

Answer:

C.सप्तमी

Reference ID:(17420)

आदिवासी क्षेत्रामधील स्तन्यदा महिलांसाठी महाराष्ट्र शासनाने खालीलपैकी कोणत्या योजनेला मंजूरी दिली?

A.क्षीर भाग्य

B.एपीजे अब्दुल कलाम अमृत योजना

C.अटल बिहारी वाजपेयी कोमल योजना

D.सर्व शिक्षा अभियान

Answer:

B.एपीजे अब्दुल कलाम अमृत योजना

Reference ID:(17418)

2019 च्या 17 व्या लोकसभा निवडणूकीमध्ये, एकूण _____ मतदार संघांसाठी मतदान घेतले जाणार आहे.

A.542

B.543

C.541

D.540

Answer:

B.543

Reference ID:(17416)

महाराष्ट्रामधून कला-अभिनय-रंगभूमी या क्षेत्रामध्ये पद्म श्री पुरस्कार 2019 साठी खालीलपैकी कोणाची निवड करण्यात आली?

A.दिनयार कांट्रेक्टर

B.कंवल सिंह चौहान

C.व्हीके शग

D.बाबूलाल दाहिया

Answer:

A.दिनयार कांट्रेक्टर

Reference ID:(17163)

Which of the following options best combines the two given sentences?

I know. Sawan will become a great dancer like Michael Jackson.

A.I know that Sawan will become a great dancer like Michael Jackson.

B.I know that Sawan becomes a great dancer like Michale Jackson.

C.I was informed that Sawan became a great dancer like Michale Jackson.

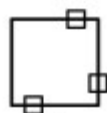
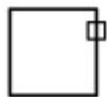
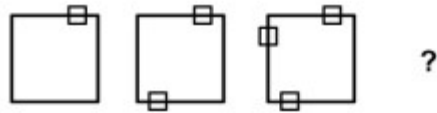
D.Sawan becomes a great dancer like Michael Jackson.

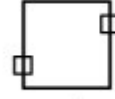
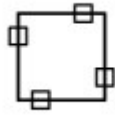
Answer:

A.I know that Sawan will become a great dancer like Michael Jackson.

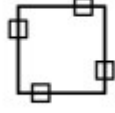
Reference ID:(17450)

खाली दिलेल्या क्रमामध्ये, पुढे कोणती आकृती येईल?





Answer:



Reference ID:(17442)

एका व्यापाऱ्याकडे 600 किग्रॅ तांदूळ आहे, ज्यामधील काही तांदळाची त्याने 15% नफ्याने आणि उर्वरित मात्रेची त्याने 20% तोट्याने विक्री केली. त्याला या सर्वांवर एकूण 6% तोटा झाला. 20% तोट्याने त्याने विक्री केलेल्या तांदळाचे प्रमाण काय आहे?

A.300 किग्रॅ

B.410 किग्रॅ

C.360 किग्रॅ

D.210 किग्रॅ

Answer:

C.360 किग्रॅ

Reference ID:(17179)

पुढील शब्दाचे लिंग ओळखा.
इमारत

A.पुल्लिंग

B.स्त्रीलिंग

C.नपुंसकलिंग

D.उभयलिंग

Answer:

B.स्त्रीलिंग

Reference ID:(17423)

जर आपल्याला अतिरिक्त थकवा आल्यासारखे वाटले, तर खालीलपैकी कोणती वस्तू आपल्याला त्वरित ऊर्जा देऊ शकते?

A.ग्लुकोजचे पाणी

B.दूध

C.अन्न

D.पाणी

Answer:

A.ग्लुकोजचे पाणी

Reference ID:(17173)

Choose the option that best expresses the meaning of the highlighted idiom/phrase:

If you don't have a place to stay, you can't get a job, and with no job you can't get an apartment. It's a **Catch 22 situation**.

A.a situation where one factor depends on another

B.a situation where you are caught red handed

C.a situation that depends on luck

D.a situation that revolves round destiny

Answer:

A.a situation where one factor depends on another

Reference ID:(17401)

खालीलपैकी कोणत्या संस्थेमधील विद्यार्थ्यांनी अलिकडे स्मार्ट इंडिया हॅकेथॉन 2019 दरम्यान बनावटी भारतीय चलन शोधण्याची समस्येला संबोधण्यासाठी स्मार्टफोन अनुप्रयोगासाठी कोड तयार केला?

A.आयआयएससी बेंगलोर

B.आयआयटी-कानपूर

C.आयआयटी-खरगपूर

D.आयआयटी-दिल्ली

Answer:

C.आयआयटी-खरगपूर

Reference ID:(17160)

Choose the appropriate articles for the given sentence:

___ introduction of direct distance dialing in 1951 was one of ___ most significant development in ___ effort to improve long-distance service.

A.No article required ... the ... an

B.The ... the ... an

C.The ... a ...No article required

D.The ... a ... the

Answer:

B.The ... the ... an
